

ΥΠΟΥΡΓΕΙΟ ΠΑΙΔΕΙΑΣ ΚΑΙ ΠΟΛΙΤΙΣΜΟΥ  
ΔΙΕΥΘΥΝΣΗ ΑΝΩΤΕΡΗΣ ΚΑΙ ΑΝΩΤΑΤΗΣ ΕΚΠΑΙΔΕΥΣΗΣ  
ΥΠΗΡΕΣΙΑ ΕΞΕΤΑΣΕΩΝ

ΠΑΓΚΥΠΡΙΕΣ ΕΞΕΤΑΣΕΙΣ 2010

Μάθημα: «ΕΛΕΥΘΕΡΟ - ΠΡΟΟΠΤΙΚΟ ΣΧΕΔΙΟ»

Ημερομηνία και ώρα εξέτασης: Δευτέρα, 7 Ιουνίου 2010

10:30 – 14:00

Διάρκεια εξέτασης: 3 ώρες και 30 λεπτά (210 λεπτά)

ΤΟ ΕΞΕΤΑΣΤΙΚΟ ΔΟΚΙΜΙΟ ΑΠΟΤΕΛΕΙΤΑΙ ΑΠΟ ΠΕΝΤΕ (5) ΣΕΛΙΔΕΣ ΚΑΙ  
ΠΕΡΙΛΑΜΒΑΝΕΙ ΔΥΟ (2) ΑΣΚΗΣΕΙΣ

**ΟΔΗΓΙΕΣ**

1. Να συμπληρώσετε τα στοιχεία σας με μελάνι στο εξώφυλλο (έντυπο χαρτονάκι A4) και στα δύο φύλλα σχεδίασης A3.
2. Να λύσετε και τις δύο ασκήσεις (Α', Β'), με τη σειρά που επιθυμείτε, την κάθε μία στο αντίστοιχο φύλλο σχεδίασης μεγέθους A3.
3. Οι λύσεις των ασκήσεων να σχεδιαστούν στην ίδια πλευρά του φύλλου σχεδίασης όπου αναγράφονται και τα στοιχεία σας.
4. Να παραδώσετε και τα δύο φύλλα σχεδίασης είτε λύσετε όλα τα θέματα είτε όχι.
5. Να παραδώσετε **ταυτόχρονα** το εξώφυλλο (έντυπο χαρτονάκι A4) και τα δύο φύλλα σχεδίασης A3.
6. Με ευθύνη των επιτηρητών, στην παρουσία του μαθητή που παραδίδει, να γίνουν τα πιο κάτω:
  - I. Τα δύο φύλλα σχεδίασης να συνδεθούν με το εξώφυλλο που θα τα επικαλύπτει. Η σύνδεση να γίνει με κορδονάκι.
  - II. Ακολούθως, να επικολληθούν οι τρεις (3) αυτοκόλλητες ετικέτες για επικάλυψη των στοιχείων των εξεταζομένων.

## ΠΡΟΟΠΤΙΚΟ ΣΧΕΔΙΟ

### ΑΣΚΗΣΗ Α΄

Δίνονται:

- α) Η κάτοψη των περιμετρικών τοίχων μιας μικρής οικοδομής μαζί με τις δύο όψεις: Α, Β και την κάτοψη οροφής ( σελ. 4 ).
- β) Η κάτοψη της μικρής οικοδομής, τοποθετημένη υπό κλίση  $45^\circ$  ως προς τη γραμμή εδάφους με διαστάσεις ( σελ. 5 ) και επίσης στο φύλλο σχεδίασης (Α3) χωρίς διαστάσεις.

I. Να σχεδιαστεί το προοπτικό της οικοδομής, αν θεωρηθεί ότι:

- Η γραμμή εδάφους εφάπτεται του σημείου Κ της κάτοψης (όπως φαίνεται στη σελ. 5).
- Η γραμμή παρατήρησης (ΚΟ΄=17 μέτρα) είναι κάθετη στη γραμμή εδάφους.
- Ο παρατηρητής Ο΄ απέχει 17 μέτρα από τη γραμμή εδάφους (ΚΟ΄=17 μέτρα) και παρατηρεί από ύψος 1.80 μέτρα.

**Κλίμακα σχεδίασης 1:100**

**Οι διαστάσεις δίνονται σε εκατοστόμετρα (cm).**

**(Μονάδες 25)**

II.

- Να τοποθετήσετε τουλάχιστον τρία (3) επιπλέον στοιχεία της δικής σας επιλογής στο προοπτικό της πιο πάνω οικοδομής, όπως για παράδειγμα, άνοιγμα (πόρτα - παράθυρο), καπνοδόχος, προεξοχή, προέκταση, επίχρισμα (λιθοδομή διακοσμητική), πλακόστρωτα, κ.α., ώστε να εμπλουτιστεί αισθητικά και λειτουργικά η οικοδομή.
- Να εμπλουτίσετε τον περιβάλλοντα χώρο με στοιχεία της δικής σας επιλογής, όπου θα συμπεριλαμβάνονται τουλάχιστον δύο (2) ανθρώπινες φιγούρες και δύο (2) δέντρα σε διαφορετικές αποστάσεις από τον παρατηρητή.
- Να αποδώσετε τη σύνθεση με διαφανή χρώματα της επιλογής σας (νερομπογιά, μολύβια ακουαρέλας, χρωματιστά μολύβια) και φωτοσκίαση με κατεύθυνση φωτός δικής σας επιλογής.

**(Μονάδες 25)**

## **ΕΛΕΥΘΕΡΟ ΣΧΕΔΙΟ**

### **ΑΣΚΗΣΗ Β΄**

Παρουσιάζεται μία νεκρή φύση, αποτελούμενη από τέσσερα (4) αντικείμενα. Να σχεδιάσετε με ελεύθερο χέρι όλα τα αντικείμενα όπως φαίνονται εκ του φυσικού. Μπορείτε να χρησιμοποιήσετε μολύβια από HB μέχρι 4B. Το χαρτί σχεδίασης μπορεί να τοποθετηθεί οριζόντια ή κάθετα.


Η σύνθεση θα αξιολογηθεί ως προς τα ακόλουθα:

1. Σωστός Σχεδιασμός
2. Σωστή Τοποθέτηση
3. Σωστές Αναλογίες
4. Τονική διαβάθμιση – φωτοσκίαση, ποιότητα περιγράμματος, απόδοση φόντου και υφής.

**(Μονάδες 50)**

**ΚΑΛΗ ΕΠΙΤΥΧΙΑ**

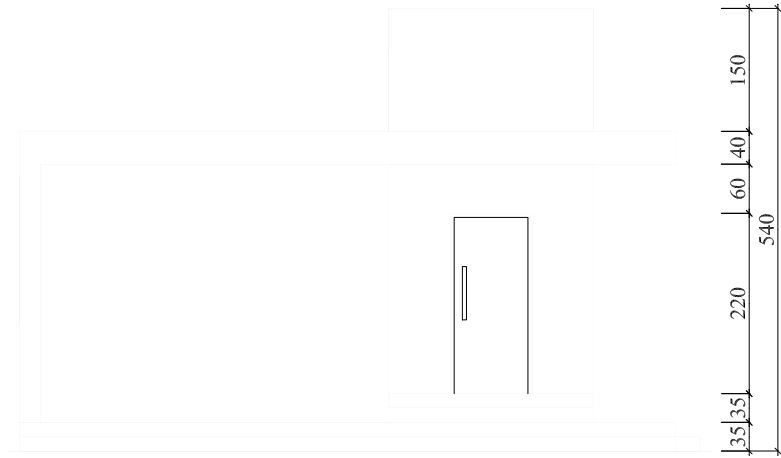
# ΟΨΗ Α



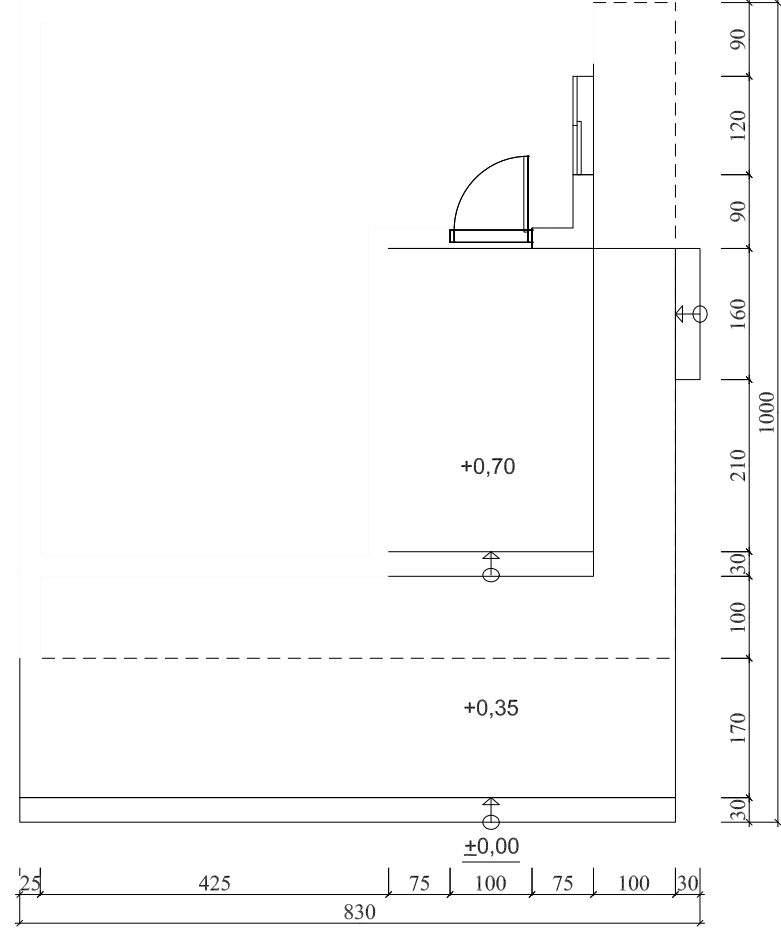
# ΚΑΤΟΨΗ ΟΡΟΦΗΣ



# ΟΨΗ Β



# ΚΑΤΟΨΗ

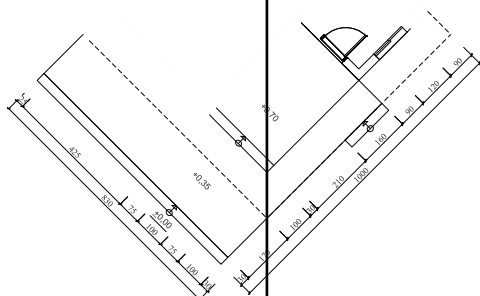


# ΑΣΚΗΣΗ Α'

ΚΛ. 1:100

ΓΡΑΜΜΗ ΕΔΑΦΟΥΣ

Κ



Ο' ΠΑΡΑΤΗΡΗΤΗΣ

- 5 -

