

ΥΠΟΥΡΓΕΙΟ ΠΑΙΔΕΙΑΣ, ΠΟΛΙΤΙΣΜΟΥ, ΑΘΛΗΤΙΣΜΟΥ ΚΑΙ ΝΕΟΛΑΙΑΣ
ΔΙΕΥΘΥΝΣΗ ΜΕΣΗΣ ΓΕΝΙΚΗΣ ΕΚΠΑΙΔΕΥΣΗΣ
ΔΙΕΥΘΥΝΣΗ ΜΕΣΗΣ ΤΕΧΝΙΚΗΣ ΚΑΙ ΕΠΑΓΓΕΛΜΑΤΙΚΗΣ ΕΚΠΑΙΔΕΥΣΗΣ
ΚΑΙ ΚΑΤΑΡΤΙΣΗΣ

ΕΝΙΑΙΑ ΓΡΑΠΤΗ ΑΞΙΟΛΟΓΗΣΗ ΤΕΤΡΑΜΗΝΩΝ 2020-21

Β΄ ΤΑΞΗΣ ΛΥΚΕΙΟΥ

ΗΜΕΡΟΜΗΝΙΑ: ΤΕΤΑΡΤΗ 26 ΜΑΪΟΥ 2021

ΕΞΕΤΑΖΟΜΕΝΟ ΜΑΘΗΜΑ: ΓΡΑΦΙΚΕΣ ΤΕΧΝΕΣ Β΄ ΛΥΚΕΙΟΥ (Α΄ ΣΕΙΡΑ)

ΛΥΣΕΙΣ

ΚΩΔΙΚΟΣ ΜΑΘΗΜΑΤΟΣ: lyk_eg201

ΣΥΝΟΛΙΚΗ ΔΙΑΡΚΕΙΑ ΓΡΑΠΤΗΣ ΕΞΕΤΑΣΗΣ ΓΡΑΦΙΚΩΝ ΤΕΧΝΩΝ: 90 λεπτά

ΤΟ ΕΞΕΤΑΣΤΙΚΟ ΔΟΚΙΜΙΟ ΑΠΟΤΕΛΕΙΤΑΙ ΑΠΟ ΕΝΝΕΑ (9) ΣΕΛΙΔΕΣ

ΟΔΗΓΙΕΣ (για τους εξεταζομένους)

1. Στο έντυπο Α4 (χαρτονάκι) να συμπληρώσετε όλα τα κενά με τα στοιχεία που ζητούνται. Στο τέλος της εξέτασης το έντυπο Α4 (χαρτονάκι) θα επισυναφθεί στο εξεταστικό δοκίμιο από τον επιτηρητή.
2. Το εξεταστικό δοκίμιο αποτελείται από δύο μέρη. Μέρος Α΄ και Μέρος Β΄.
3. **Να απαντήσετε ΟΛΑ τα ερωτήματα και να εκτελέσετε ΟΛΕΣ τις σχεδιαστικές ασκήσεις στο εξεταστικό δοκίμιο.**
4. Οι συνολικές μονάδες του εξεταστικού δοκιμίου είναι 100.
5. Ο αριθμός των μονάδων για κάθε ερώτηση/σχεδιαστική άσκηση, παρουσιάζεται στο τέλος της ερώτησης/σχεδιαστικής άσκησης ή του υποερωτήματος, σε παρένθεση.
6. **Όλες οι απαντήσεις να δοθούν στο εξεταστικό δοκίμιο που θα επιστραφεί για βαθμολόγηση.**
7. Να μη γράψετε πουθενά στις απαντήσεις σας το όνομά σας.
8. Να απαντήσετε σε όλα τα θέματα **μόνο με μπλε πένα ανεξίτηλης μελάνης.** Στις σχεδιαστικές ασκήσεις να χρησιμοποιήσετε το υλικό με βάση τις οδηγίες που δίνονται.
9. Απαγορεύεται η χρήση διορθωτικού υγρού ή διορθωτικής ταινίας.
10. Το διαφανές φύλλο σχεδίασης (ριζόχαρτο) που σας δόθηκε να χρησιμοποιηθεί ως βοηθητικό μέσο και δεν επιστρέφεται.

ΣΑΣ ΕΥΧΟΜΑΣΤΕ ΚΑΛΗ ΕΠΙΤΥΧΙΑ

ΜΕΡΟΣ Α΄

(ΜΟΝΑΔΕΣ 40)

Αποτελείται από οκτώ (8) ερωτήσεις.
Να απαντήσετε και στις οκτώ (8) ερωτήσεις.

ΕΡΩΤΗΣΗ 1

(μονάδες 3)

Να υπογραμμίσετε τη σωστή απάντηση.

α. Ποια γραμμή από τις πιο κάτω συμβολίζει ροή:

- i. η ευθεία οριζόντια
- ii. η διαγώνια
- iii. η καμπύλη
- iv. η τεθλασμένη

(μονάδα 1)

β. Ποια γραμμή από τις πιο κάτω συμβολίζει σύγκρουση:

- i. η ευθεία οριζόντια
- ii. η διαγώνια
- iii. η καμπύλη
- iv. η τεθλασμένη

(μονάδα 1)

γ. Ποια γραμμή από τις πιο κάτω συμβολίζει ηρεμία:

- i. η ευθεία οριζόντια
- ii. η διαγώνια
- iii. η καμπύλη
- iv. η τεθλασμένη

(μονάδα 1)

ΕΡΩΤΗΣΗ 2

(μονάδες 6)

Να συμπληρώσετε τα κενά στις παρακάτω προτάσεις:

α. Τα αντίθετα χρώματα ονομάζονται και **συμπληρωματικά**

β. Το αντίθετο χρώμα του κόκκινου είναι το **πράσινο**

γ. Το αντίθετο χρώμα του μπλε είναι το **πορτοκαλί**

δ. Το αντίθετο χρώμα του κίτρινου είναι το **μοβ**

ε. Ένα ψυχρό χρώμα είναι το **μπλε ή το πράσινο**

στ. Μία από τις τρεις ιδιότητες των χρωμάτων είναι **η φωτεινότητα/τόνος, ή: η απόχρωση, ή: η ένταση/κορεσμός**

ΕΡΩΤΗΣΗ 3

(μονάδες 6)

Να αναγνωρίσετε τη γραφή/αλφάβητο επιλέγοντας από τις πιο κάτω λέξεις.
Να σημειώσετε τις απαντήσεις σας στον κενό χώρο.

ΠΡΟΣΟΧΗ: Δύο από τις λέξεις είναι λανθασμένες.

*Κινεζική γραφή, Σφηνοειδής γραφή, Αιγυπτιακή Ιερογλυφική γραφή,
Λατινικό αλφάβητο, Φοινικικό αλφάβητο*



α. *Σφηνοειδής γραφή*

β. *Λατινικό αλφάβητο*

γ. *Αιγυπτιακή Ιερογλ. γραφή*

ΕΡΩΤΗΣΗ 4

(μονάδες 6)

Να ιεραρχήσετε τα παρακάτω αλφάβητα σύμφωνα με τη χρονική περίοδο εξέλιξής τους αρχίζοντας από το αρχαιότερο:

Λατινικό αλφάβητο, Ελληνικό αλφάβητο, Φοινικικό αλφάβητο

α. *Φοινικικό αλφάβητο*



β. *Ελληνικό αλφάβητο*



γ. *Λατινικό αλφάβητο*

ΕΡΩΤΗΣΗ 5

(μονάδες 4)

Να συμπληρώσετε τα κενά στις παρακάτω προτάσεις, επιλέγοντας από τις πιο κάτω λέξεις. Να σημειώσετε τις απαντήσεις σας στον κενό χώρο.

ΠΡΟΣΟΧΗ: Μία από τις λέξεις είναι λανθασμένη.

Γραμματοσειρά, Συλλαβικό σύστημα γραφής, Οικογένεια γραμματοσειράς

α. Το σύνολο των τυπογραφικών στοιχείων της ίδιας σχεδίασης (αλφαβήτου, αριθμών, σημείων στίξης και συμβόλων)

Γραμματοσειρά

(μονάδες 2)

β. Το σύνολο των τυπογραφικών στοιχείων της ίδιας σχεδίασης με παραλλαγές στους τύπους τους (πάχος, πλάτος, κλίση)

Οικογένεια γραμματοσειράς

(μονάδες 2)

ΕΡΩΤΗΣΗ 6

(μονάδες 4)

Να υπογραμμίσετε δύο (2) χαρακτηρισμούς που περιγράφουν το κάθε γράμμα (α. και β.) που σας δίνεται:

α.

T

i. χοντρά

ii. περιγραμμισμένα

iii. κυρτά

iv. λευκά

(μονάδες 2)

β.

T

i. στενά

ii. σκιασμένα

iii. όρθια

iv. λευκά

(μονάδες 2)

ΕΡΩΤΗΣΗ 7

(μονάδες 3)

Να υπογραμμίσετε τη λέξη που είναι γραμμένη με την καταλληλότερη γραμματοσειρά για την κάθε σειρά, έτσι ώστε να ταιριάζει περισσότερο με το νόημά της.

α.

i. **γλάισο**

ii. **γλάσο**

iii. γλάσο

(μονάδα 1)

β.

i. ζύμη

ii. ζύμη

iii. ζύμη

(μονάδα 1)

γ.

i. *ξηραβία*

ii. ξηρασία

iii. ξηρασία

(μονάδα 1)

ΕΡΩΤΗΣΗ 8

(μονάδες 8)

Να αναγνωρίσετε την κατηγορία γραμματοσειράς η οποία χρησιμοποιήθηκε για τη γραφή της λέξης *Typography*, επιλέγοντας από τις πιο κάτω κατηγορίες. Να σημειώσετε τις απαντήσεις σας στον κενό χώρο.

Με προεξοχές, Χωρίς προεξοχές, Καλλιγραφικά, Χειρόγραφα

Typography

α. Χειρόγραφα

(μονάδες 2)

Typography

β. Καλλιγραφικά

(μονάδες 2)

Typography

γ. Με προεξοχές

(μονάδες 2)

Typography

δ. Χωρίς προεξοχές

(μονάδες 2)

ΤΕΛΟΣ ΜΕΡΟΥΣ Α΄
ΑΚΟΛΟΥΘΕΙ ΤΟ ΜΕΡΟΣ Β΄

ΜΕΡΟΣ Β΄

(ΜΟΝΑΔΕΣ 60)

Αποτελείται από δύο (2) ασκήσεις.

Να απαντήσετε και στις δύο (2) ασκήσεις.

ΑΣΚΗΣΗ 9

(μονάδες 15)

Καλοκαίρι χωρίς μουσική δεν γίνεται!

Το Φεστιβάλ «ΜΟΥΣΙΚΗ = ΖΩΗ» επιστρέφει και ανοίγει τις πόρτες του σε ένα τετραήμερο party. Τέσσερις μέρες γεμάτες μουσική, χορό, γέλιο, χαρά, φιλία.

Καλείστε να δημιουργήσετε μια πρωτότυπη, ανεικονική (μη ρεαλιστική) σύνθεση στην επιφάνεια του εισιτηρίου του Φεστιβάλ, που φαίνεται πιο κάτω. Η σύνθεσή σας θα πρέπει να αποτελείται ΜΟΝΟ από γραμμές, ελεύθερες φόρμες και σχήματα.

Να μεταδώσετε την κίνηση και ζωντάνια του πιο πάνω θέματος, χρησιμοποιώντας ένα (1) πρωτεύον χρώμα και το μαύρο.


Να χρησιμοποιήσετε υλικά της επιλογής σας.

Να προσεχθεί η ποιότητα του χρωματίσματος.

Κριτήρια Αξιολόγησης:

- | | | |
|--|---------|----|
| 1. Σύνθεση ανεικονικών στοιχείων | μονάδες | 10 |
| 2. Χρήση ορθού χρώματος | μονάδες | 2 |
| 3. Ποιότητα εκτέλεσης | μονάδες | 3 |

ΣΥΝΟΛΟ 15



ΑΣΚΗΣΗ 10

(μονάδες 45)

Να δημιουργήσετε μία τυπογραφική σύνθεση εντός του **Πλαισίου 1** με το **γράμμα Τ,τ** (στη σελίδα 8), χρησιμοποιώντας ως σχεδιαστικά υλικά μαύρο πενάκι, χρωματιστά πενάκια ή/και χρωματιστά μολύβια. Να χρωματίσετε τη σύνθεσή σας με μαύρο και δύο θερμά χρώματα.

Σχεδιαστικές απαιτήσεις:

Στη σύνθεσή σας πρέπει να συνδυάσετε το **γράμμα Τ,τ** όσες φορές θέλετε και σε διάφορα μεγέθη, είτε: σε κεφαλαίο μόνο, ή σε κεφαλαίο και μικρό, χρησιμοποιώντας επανάληψη, τομή και επικάλυψη.

Το **γράμμα Τ,τ** μπορείτε να το αξιοποιήσετε με αποτύπωση (αντιγραφή) στο μέγεθος και στη θέση που επιθυμείτε. Το διαφανές φύλλο σχεδίασης (ριζόχαρτο) το οποίο σας δόθηκε, να χρησιμοποιηθεί ως βοηθητικό μέσο και δεν θα τύχει αξιολόγησης.


Η κοπή και η επικόλληση των στοιχείων δεν επιτρέπεται.

Κριτήρια Αξιολόγησης:

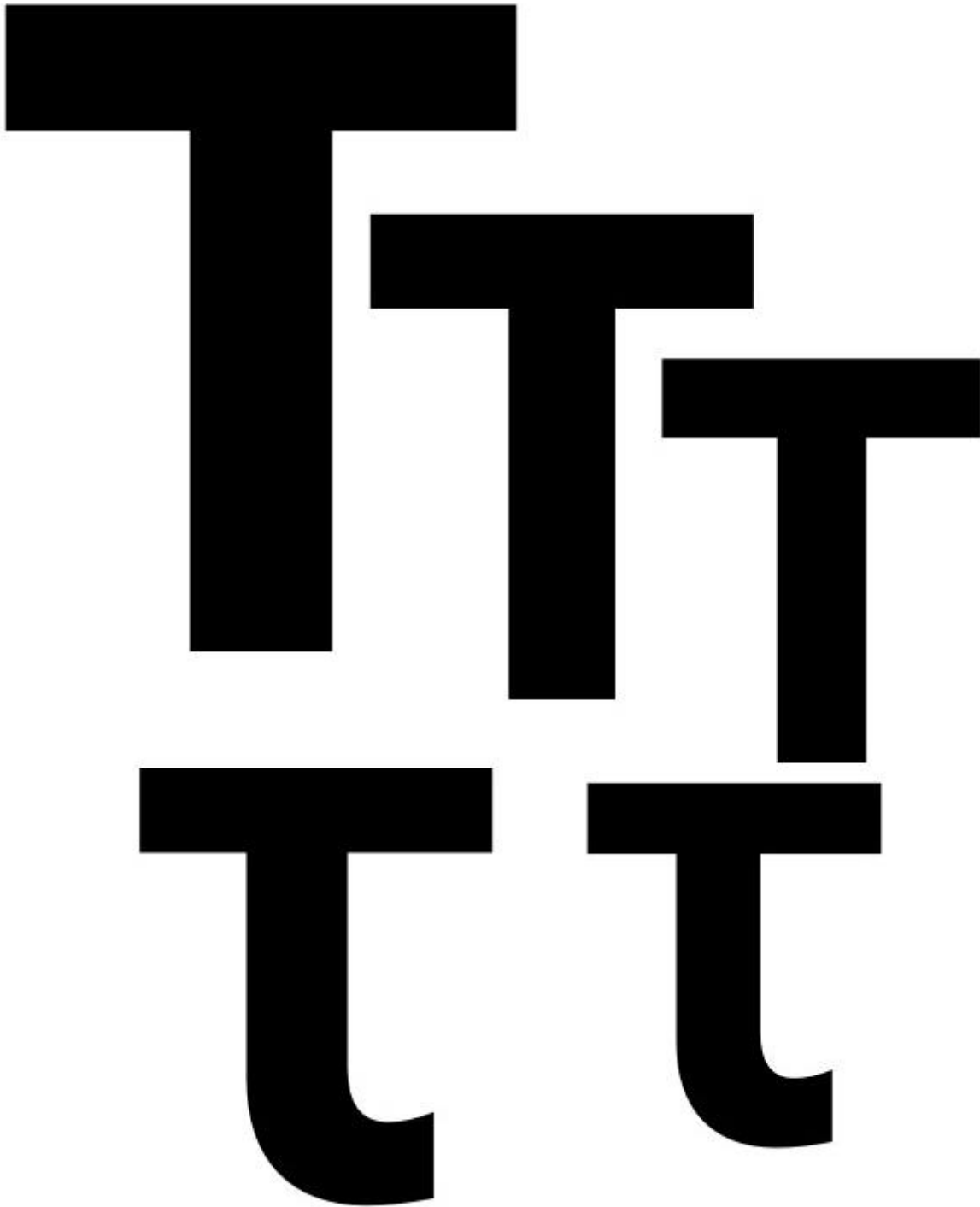
1. Σύνθεση τυπογραφικών στοιχείων μονάδες 30
2. Χρήση ορθών χρωμάτων μονάδες 5
3. Ποιότητα της εκτέλεσης μονάδες 10

ΣΥΝΟΛΟ 45

Πλαίσιο 1



Γράμμα Τ,τ



ΤΕΛΟΣ ΕΞΕΤΑΣΤΙΚΟΥ ΔΟΚΙΜΟΥ

ΠΡΟΧΕΙΡΟ

Αυτή η σελίδα δεν αξιολογείται

ΠΡΟΧΕΙΡΟ