

ΥΠΟΥΡΓΕΙΟ ΠΑΙΔΕΙΑΣ ΚΑΙ ΠΟΛΙΤΙΣΜΟΥ
ΔΙΕΥΘΥΝΣΗ ΑΝΩΤΕΡΗΣ ΚΑΙ ΑΝΩΤΑΤΗΣ ΕΚΠΑΙΔΕΥΣΗΣ
ΥΠΗΡΕΣΙΑ ΕΞΕΤΑΣΕΩΝ

ΠΑΓΚΥΠΡΙΕΣ ΕΞΕΤΑΣΕΙΣ
2011

ΤΕΧΝΟΛΟΓΙΑ (I) ΠΡΑΚΤΙΚΗΣ ΚΑΤΕΥΘΥΝΣΗΣ

ΜΑΘΗΜΑ : ΤΕΧΝΟΛΟΓΙΑ ΚΑΙ ΕΡΓΑΣΤΗΡΙΑ ΓΡΑΦΙΚΩΝ ΤΕΧΝΩΝ
ΗΜΕΡΟΜΗΝΙΑ : ΠΕΜΠΤΗ, 26 ΜΑΪΟΥ 2011
ΩΡΑ : 11.00 - 13.30

Επιτρεπόμενη διάρκεια γραπτού: 2,5 ώρες (150 λεπτά)

Το εξεταστικό δοκίμιο αποτελείται από δύο (2) μέρη (Α' και Β'), επτά (7) σελίδες.

Ο/Η εξεταζόμενος/η θα εφοδιαστεί με τα πιο κάτω:

- Το εξεταστικό δοκίμιο
- Τρία (3) διαφανή φύλλα σχεδίασης (τρέισινγκ) μεγέθους Α4
- Ένα έντυπο Α4 (χαρτονάκι) το οποίο αφού συμπληρώσει τα στοιχεία του/της θα επισυναφθεί στο εξεταστικό δοκίμιο.

ΟΔΗΓΙΕΣ:

1. Να απαντήσετε σε όλες τις ερωτήσεις και να εκτελέσετε όλες τις εργασίες στο εξεταστικό δοκίμιο.
2. Να χρησιμοποιήσετε τα διαφανή φύλλα σχεδίασης (τρέισινγκ) ως βοηθητικό μέσο.
3. Τα διαφανή φύλλα σχεδίασης (τρέισινγκ) δεν επιστρέφονται.
4. Να μη γράψετε το όνομα ή οποιαδήποτε άλλα στοιχεία σας στο εξεταστικό δοκίμιο.
5. Να προσεχθεί η ποιότητα της εργασίας σας.

ΜΕΡΟΣ Α' - (40 μονάδες)

1. Να αντιστοιχίσετε τα πιο κάτω:

(μονάδες 4)

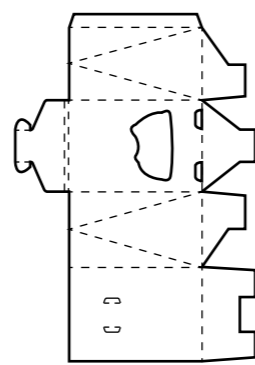
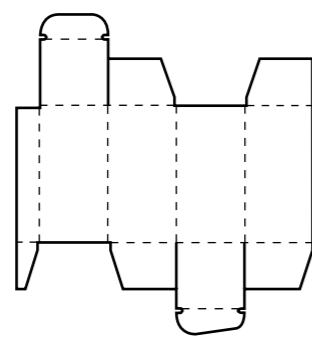
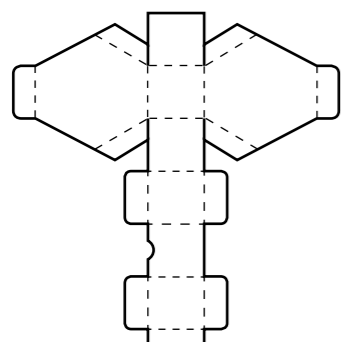
- α) Απόσταση μεταξύ δύο αράδων κειμένου
- β) Τετραχρωμία
- γ) Πίκμανση - Ρίγωμα
- δ) Απόσταση μεταξύ δύο στηλών

- i) Διάστημα
- ii) CMYK
- iii) Χρώματα Παντόνε (Pantone)
- iv) Διάστιχο
- v) Χρώμαλιν
- vi) RGB
- vii) Κυτιοποιία

- α)
- β)
- γ)
- δ)

2. Σας δίνονται τα πιο κάτω αναπτύγματα κουτιών.

(μονάδες 8)



- i)
- ii)
- iii)

- α) Να κυκλώσετε το απλό παραλληλόγραμμο κουτί.
- β) Να γράψετε τρεις (3) απαιτήσεις που πρέπει να εκπληρώνει ένα κουτί για να μπορεί να συσκευαστεί ένα προϊόν σωστά.

- i)
- ii)
- iii)

3. Να απαντήσετε **ορθό** ή **λάθος** στις πιο κάτω προτάσεις:

(μονάδες 4)

- α) Στη διεθνή τυποποιημένη σειρά A, η διάσταση του μεγέθους A3 είναι μικρότερη του μεγέθους A4.
- β) Στην κολλητή βιβλιοδεσία χρησιμοποιούμε θερμοπλαστικές γόμες.
- γ) Όταν αναφέρεται ότι ένα χαρτί έχει βάρος 120 γραμμάρια, εννοείται ότι έχει βάρος 120 γραμμάρια ανά τετραγωνικό μέτρο.
- δ) Ένα δίχρωμο διαφημιστικό έντυπο τυπώνεται με τη μέθοδο της τετραχρωμίας.

- α)
- β)
- γ)
- δ)

4. Σας δίνονται τα πιο κάτω λογότυπα.

(μονάδες 8)



- i)
- ii)
- iii)

α) Να γράψετε τι είναι το λογότυπο.

.....

.....

.....

β) Να επιλέξετε και να υπογραμμίσετε την κατηγορία στην οποία ανήκουν και τα τρία πιο πάνω λογότυπα.

- Καλλιγραφικά Γεωμετρικά Ανθρωπομορφικά Τυπογραφικά

γ) Να γράψετε πόσα χρώματα χρησιμοποιήθηκαν για την εκτύπωση του κάθε λογότυπου.

- i)
- ii)
- iii)

5. Σας δίνεται η πιο κάτω σειρά διαφημίσεων της ADIDAS.

(μονάδες 8)



α) Να γράψετε δύο (2) κοινά στοιχεία της πιο πάνω σειράς διαφημίσεων.

.....

β) Να γράψετε δύο (2) διαφορές της πιο πάνω σειράς διαφημίσεων.

.....

6. Να σχεδιάσετε στο πιο κάτω διαφημιστικό μπλουζάκι μια **έγχρωμη πρόταση** για το λογότυπο του ζωολογικού πάρκου της Πάφου με την επωνυμία **ZOO**.
Να χρησιμοποιήσετε μέχρι και τρία (3) χρώματα.

(μονάδες 8)

Σας δίνονται:

- Το διαφημιστικό μπλουζάκι
- Τυπογραφικά στοιχεία (γράμματα)
- Εικαστικά στοιχεία (σχέδια)



Μπορείτε αν θέλετε, να προσθέσετε και άλλα δικά σας στοιχεία σχετικά με το θέμα.

Τα στοιχεία μπορείτε να τα αξιοποιήσετε με αποτύπωση (αντιγραφή) στο μέγεθος και στη θέση που επιθυμείτε. Τα διαφανή φύλλα σχεδίασης (τρέισινγκ) τα οποία σας δόθηκαν να χρησιμοποιηθούν **ως βοηθητικό μέσο** και δεν θα **τύχουν αξιολόγησης**.

Η κοπή και η επικόλληση των στοιχείων δεν επιτρέπεται.

Το λογότυπο πρέπει:

- Να περιλαμβάνει την επωνυμία ZOO και ένα σύμβολο



ΜΕΡΟΣ Β' - Σχεδιομελέτη (60 μονάδες)

7. Η φρουταρία με την επωνυμία **φρέσκο**, σας έχει αναθέσει να σχεδιάσετε μια οικολογική **χάρτινη τσάντα** για τα βιολογικά προϊόντα της και μια **αυτοκόλλητη ετικέτα** για τις συσκευασίες της.

Σας δίνονται:

- Το σχήμα της χάρτινης τσάντας και της αυτοκόλλητης ετικέτας για προσχέδια (σελίδα 4) και τελικές προτάσεις (σελίδα 5)
- Το λογότυπο της φρουταρίας: **φρέσκο** (σελίδα 6)
- Το σλόγκαν: **ζήσε υγιεινά** (σελίδα 6)
- Ο υπότιτλος: **ΑΠΟ ΤΟ 1970** (σελίδα 6)
- Εικαστικά στοιχεία (σελίδα 6)

Μπορείτε αν θέλετε, να προσθέσετε και άλλα δικά σας στοιχεία σχετικά με το θέμα.

Τα στοιχεία μπορείτε να τα αξιοποιήσετε με αποτύπωση (αντιγραφή) στο μέγεθος και στη θέση που επιθυμείτε στο εξεταστικό δοκίμιο. Τα διαφανή φύλλα σχεδίασης (τρέισινγκ) τα οποία σας δόθηκαν, να χρησιμοποιηθούν ως βοηθητικό μέσο και δεν θα τύχουν **αξιολόγησης**.

Η κοπή και η επικόλληση των στοιχείων δεν επιτρέπεται.

Σχεδιαστικές απαιτήσεις:

Η χάρτινη τσάντα και η αυτοκόλλητη ετικέτα πρέπει να αποτελούν σειρά.

Στάδια εργασίας

α) Να δημιουργήσετε **ένα έγχρωμο προσχέδιο** για την τσάντα και **ένα έγχρωμο προσχέδιο** για την αυτοκόλλητη ετικέτα. Στη σύνθεσή σας, να συμπεριλάβετε το λογότυπο **φρέσκο**, το σλόγκαν **ζήσε υγιεινά**, τον υπότιτλο **ΑΠΟ ΤΟ 1970** και εικαστικά στοιχεία.


β) Να εκτελέσετε την **τελική σας πρόταση** με βάση τα προσχεδιά σας και να την αποδώσετε **χρωματικά**.

Οι τελικές σας προτάσεις θα πρέπει να αποτελούν **εξέλιξη των προσχεδίων σας**.

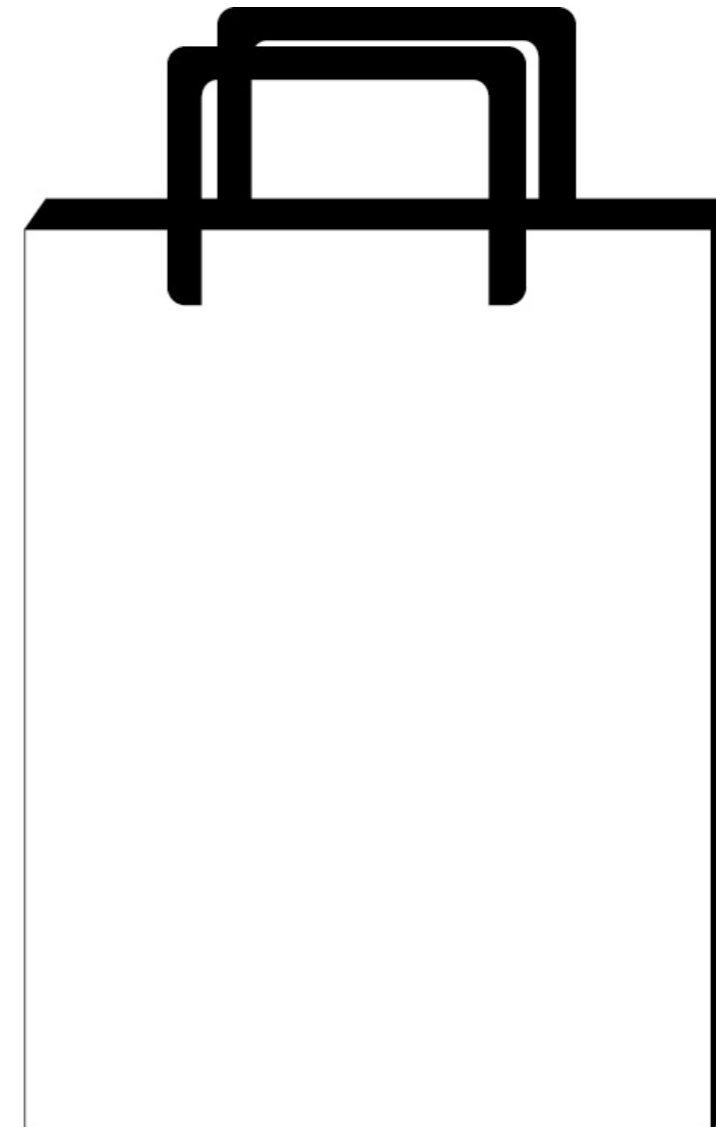
Αξιολόγηση

Προσχέδια	20 μονάδες
Διάταξη στοιχείων (τυπογραφικών και εικαστικών)	10 μονάδες
Εικονογράφηση (ποιότητα, στυλ)	15 μονάδες
Χρώμα (ορθή χρήση χρώματος)	10 μονάδες
Καταλληλότητα λύσης σε σχέση με το προϊόν	5 μονάδες
Σύνολο	60 μονάδες

ΠΡΟΣΧΕΔΙΑ



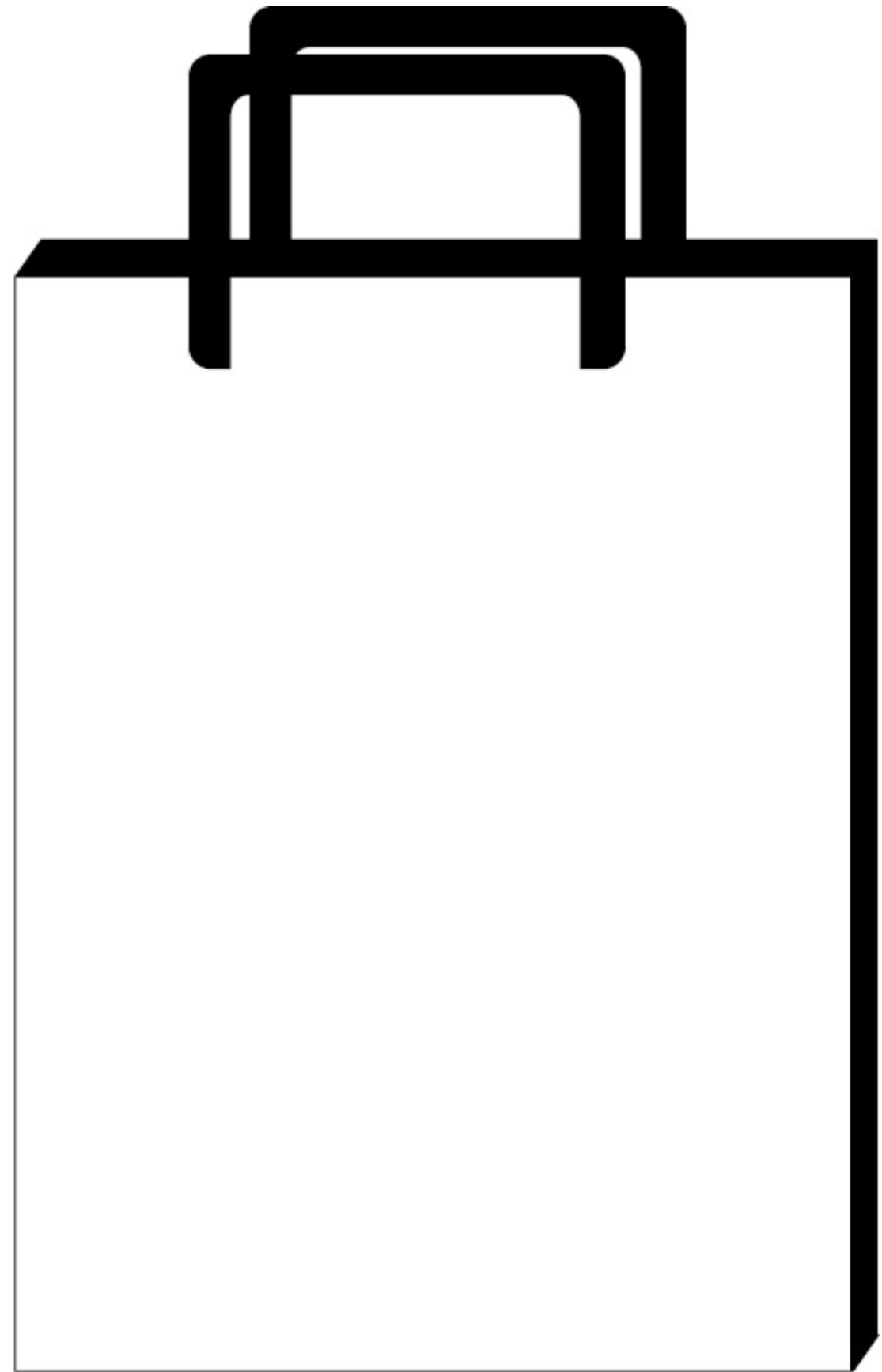
αυτοκόλλητη ετικέτα



χάρτινη τσάντα



αυτοκόλλητη ετικέτα



χάρτινη τσάντα

ΛΟΓΟΤΥΠΟ, ΣΛΟΓΚΑΝ, ΥΠΟΤΙΤΛΟΣ ΚΑΙ ΕΙΚΑΣΤΙΚΑ ΣΤΟΙΧΕΙΑ

ζήσε υγιεινά
ζήσε υγιεινά
ζήσε υγιεινά
ζήσε υγιεινά

ζήσε υγιεινά
ζήσε υγιεινά
ζήσε υγιεινά
ζήσε υγιεινά

ζήσε υγιεινά
ζήσε υγιεινά
ζήσε υγιεινά
ζήσε υγιεινά

ζήσε υγιεινά
ζήσε υγιεινά
ζήσε υγιεινά
ζήσε υγιεινά

ΑΠΟ ΤΟ 1970

ΑΠΟ ΤΟ 1970

ΑΠΟ ΤΟ 1970

ΑΠΟ ΤΟ 1970

ΑΠΟ ΤΟ 1970

ΑΠΟ ΤΟ 1970

ΑΠΟ ΤΟ 1970



ΑΠΟ ΤΟ 1970

φρέσκο

φρέσκο

φρέσκο

φρέσκο



Η κοπή και η επικόλληση των στοιχείων δεν επιτρέπεται.

ΠΡΟΧΕΙΡΟ

Αυτή η σελίδα δεν αξιολογείται.

ΠΡΟΧΕΙΡΟ