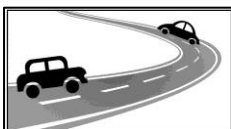


ΕΝΟΤΗΤΑ 3

Η κοινότητά μας

Πώς χρησιμοποιούμε τη γη



1. Αντιστοιχίζουμε τις εικόνες με τα ονόματα των ζωνών, που δείχνουν πώς χρησιμοποιούν οι άνθρωποι τη γη.



- οικιστική ζώνη



- αγροτική ζώνη



- εμπορική ζώνη




- βιοτεχνική – βιομηχανική ζώνη

2. Συμπληρώνουμε τις προτάσεις:

- Το κύριο χαρακτηριστικό της εμπορικής ζώνης είναι τα
- Στην οικιστική ζώνη υπάρχουν πολλά
- Στη βιοτεχνική – βιομηχανική ζώνη υπάρχουν
- Η αγροτική ζώνη αποτελείται από

Διαφορετικές Ζώνες



1. Συμπληρώνουμε τις προτάσεις δίπλα σε κάθε φωτογραφία, για να περιγράψουμε και να ονομάσουμε τη ζώνη που δείχνει πώς χρησιμοποιείται η γη.



Περιστερώνα

Στη φωτογραφία φαίνονται

.....

Βρίσκονται στη(ν)

..... ζώνη.




Λευκωσία

Στη φωτογραφία φαίνονται

.....

Βρίσκονται στη(ν)

..... ζώνη.



Εργάτες

Στη φωτογραφία φαίνονται

.....

Βρίσκονται στη(ν)

..... ζώνη.

2. Σε κάθε αεροφωτογραφία αναγνωρίζουμε τις ζώνες που φαίνονται και σχεδιάζουμε περίγραμμα γύρω τους.

Φρέναρος – Επαρχία Αμμοχώστου




- οικιστική ζώνη
- βιοτεχνική ζώνη
- αγροτική ζώνη

Αγλαντζιά – Επαρχία Λευκωσίας



- οικιστική ζώνη
- ζώνη προστασίας (πάρκο)

Ασχολίες και επαγγέλματα των ανθρώπων



1. Συμπληρώνουμε τα επαγγέλματα και τις ασχολίες των ανθρώπων στις φωτογραφίες, χρησιμοποιούμε και τις πιο κάτω λέξεις:

υγεία

εκπαίδευση

κατασκευές


μεταποίηση

τραπεζικός

κτηνοτροφία



Η κυρία είναι
Ασχολείται με την



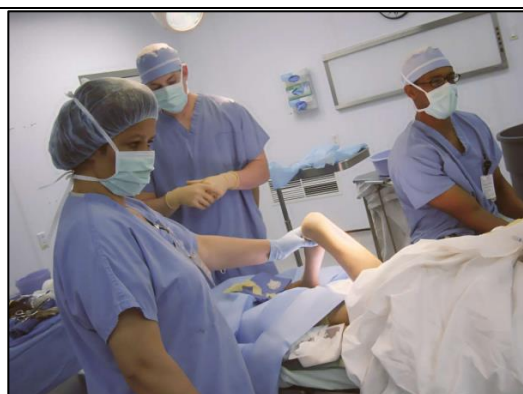
Ο κύριος είναι
Ασχολείται με την



Ο κύριος εργάζεται σε ένα εργοστάσιο. Είναι
Ασχολείται με τον τομέα των



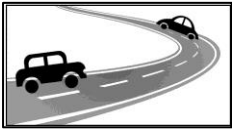
Η κυρία φτιάχνει χαλούμια. Εργάζεται ως
Ασχολείται με την



Οι άνθρωποι αυτοί εργάζονται σε
Ασχολούνται με τον τομέα της



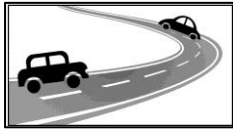
Ο κύριος εργάζεται σε
Όσοι εργάζονται εκεί, ασχολούνται με τον τομέα.



2. Στον πίνακα, σημειώνουμε ✓ στον χώρο όπου εργάζεται ο/η κάθε επαγγελματίας.

Προσοχή: Σε κάποιους χώρους μπορεί να ασκούνται περισσότερα από ένα επαγγέλματα. Επίσης, κάποια επαγγέλματα μπορεί να ασκούνται σε περισσότερους από έναν χώρους.

		χώρος						
		χωράφι	φάρμα	νοσοκομείο	εργοστάσιο	κατάστημα	τράπεζα	σχολείο
επάγγελμα	η γιατρός							
	ο κτηνοτρόφος							
	η γεωργός							
	ο νοσοκόμος							
	η καθαρίστρια							
	ο τεχνίτης							
	η μάγειρας							
	ο πωλητής							
	η εκπαιδευτικός							
	ο γραμματέας							
	η τραπεζικός							
	ο μεταφορέας							
η έμπορος								



3. Γράφουμε τουλάχιστον δύο προτάσεις για **τους/τις επαγγελματίες** και **τους χώρους** όπου τους/τις συναντάμε. Επίσης, σε κάθε πρόταση αναφέρουμε **σε ποια ζώνη χρήσης της γης** συναντάμε το συγκεκριμένο επάγγελμα.

Χρησιμοποιούμε πληροφορίες από τον πίνακα της διπλανής σελίδας.

π.χ. Ένας πωλητής μπορεί να εργάζεται σε κατάστημα, το οποίο συναντάμε σε εμπορική ζώνη.

.....


.....

.....

.....

.....

.....



4. Αντιστοιχίζουμε κάθε επάγγελμα με τον Τομέα Οικονομικής Δραστηριότητας με τον οποίο σχετίζεται.

<u>Επάγγελμα</u>	<u>Τομέας Οικονομικής Δραστηριότητας</u>
<ul style="list-style-type: none">• η τυροκόμος• ο ψαράς• η έμπορος• ο γιατρός• η υπάλληλος τράπεζας• ο δάσκαλος• η επιπλοποιός• ο οδηγός φορτηγού αυτοκινήτου	<ul style="list-style-type: none">• Γεωργία, Κτηνοτροφία, Αλιεία• Μεταποίηση• Μεταφορά και αποθήκευση• Εμπόριο – Επισκευές οχημάτων• Κατασκευές• Εκπαίδευση• Δραστηριότητες σχετικές με την ανθρώπινη υγεία• Τραπεζικές δραστηριότητες